

TEKMOVANJE IZ ZNANJA

NARAVOSLOVJA

1. RAZRED

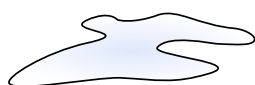
3. FEBRUAR 2016

1	2 A	2 B	2 C	2 D	2 E	2 F	3 A	3 B	3 C	3 D	3 E	3 F	3 G

4	5	6	7 A	7 B	7 C	7 D	7 E	7 F	8	9	10

1.

SLADKOR PREVIDNO SIPLJEŠ NA ISTO MESTO. KAJ DOBIŠ? [3t]

OBKROŽI SLIČICO, KI KAŽE PRAVILNI ODGOVOR.


(A)



(B)



(C)

(D)

2.

 ČE SE SNOV NA SLIKI LAHKO PRELIVA, **POBARVAJ** KROGEC [6t]

POD SLIKO Z MODRO. ČE SE SNOV LAHKO PRESIPA,

POBARVAJ KROGEC Z RDEČO.


MOKA



(A)



MED



(B)


 SUROV
BELJAK


(C)



SOL



(D)



PESEK



(E)



VODA

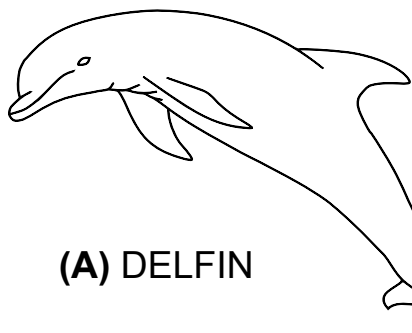


(F)


3.

OBKROŽI ŽIVALI, KI LEŽEJO JAJCA.


[7t]



(A) DELFIN




(B) RACA




(C) KRAVA




(D) MRAVLJA



(E) PINGVIN



(F) RIBA



(G) ŽELVA

4.

V KATEREM JAJCU JE VEČJI ZRAČNI MEHURČEK?

[2t]

OBKROŽI PRAVILNI ODGOVOR.

(A) V SVEŽEM JAJCU.

(B) V TRI TEDNE STAREM JAJCU.

5.

KAKO IMENUJEMO RIBJA JAJCA?

[2t]

OBKROŽI PRAVILNI ODGOVOR.

(A) IKRE

(B) MREST

(C) LIČINKE

6.

VSAJ KOLIKO LUKNJIC MORA BITI V LUPINI SUROVEGA JAJCA, DA GA LAHKO SKOZI MAJHNO LUKNJICO IZPRAZNIMO?

[3t]

OBKROŽI SLIČICO, NA KATERI JE PRAVO ŠTEVILO LUKNJIC.



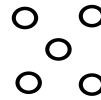
(A)



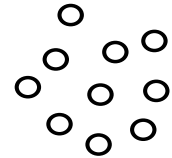
(B)



(C)



(D)



(E)

7.

KAJ SE ZELO SPREMENI, KO KOKOŠJE JAJCE TRDO SKUHAMO? ČE SE LASTNOST SPREMENI, **OBKROŽI ČRKO** PRED ODGOVOROM.

(A) BARVA LUPINE

[6t]

(B) BARVA BELJAKA

(C) TRDOTA LUPINE

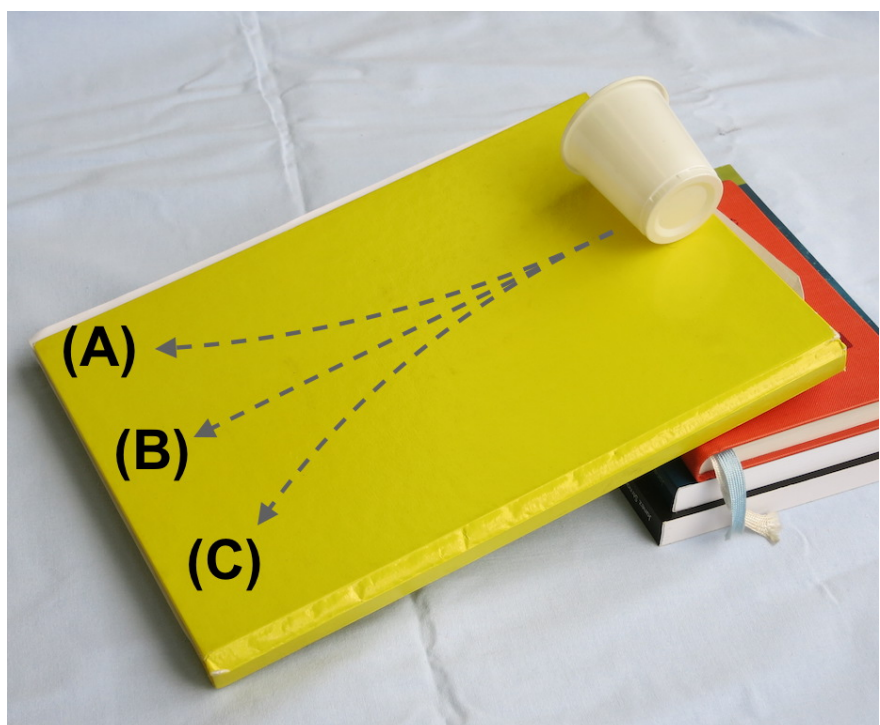
(D) TRDOTA BELJAKA

(E) TRDOTA RUMENJAKA

(F) VELIKOST JAJCA

8.

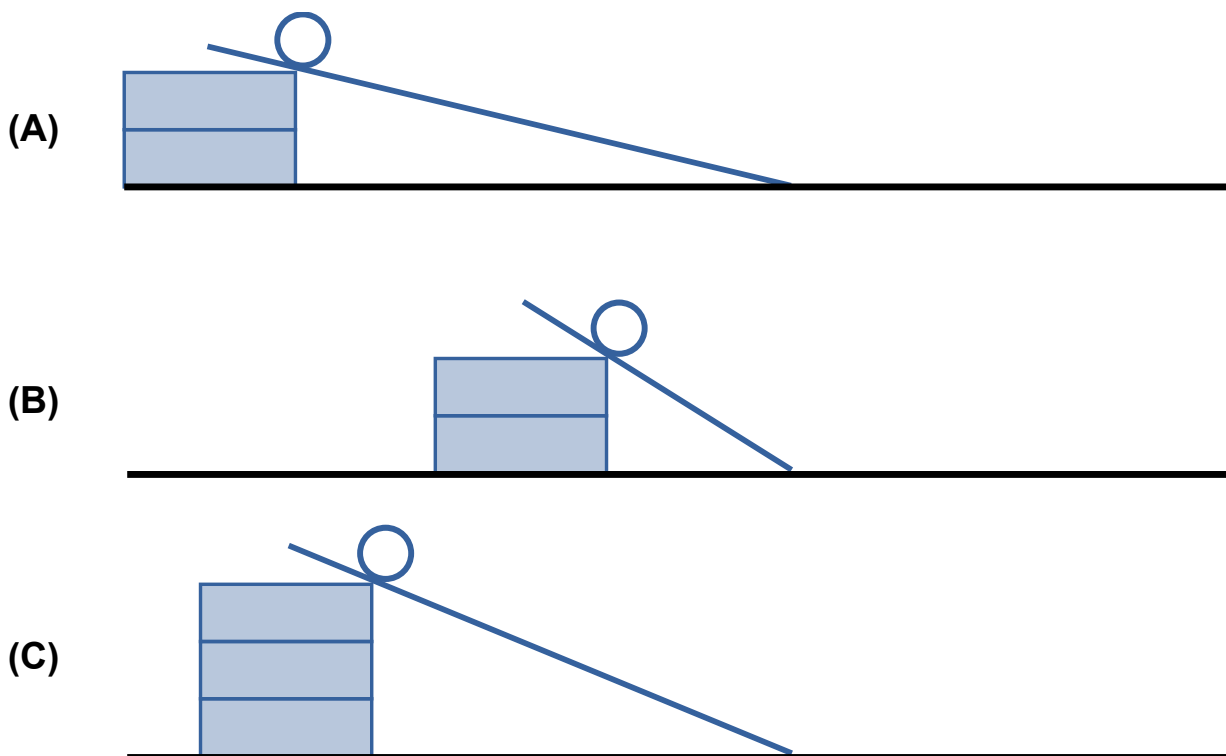
PLASTIČEN LONČEK BOMO SPUSTILI, DA SE SKOTALI PO KLANCU. **OBARVAJ** ČRTO, PO KATERI SE BO KOTALIL.



[3t]

9.

ENAKE FRNIKOLE SPUSTIMO Z VRHA RAZLIČNIH KLANCEV. [3t]

POBARVAJ FRNIKOLO, KI SE PRIKOTALI NAJDLJE.

10.

PO POLOŽNEM KLANCU SE JE KOTALILO TRDO KUHANO [4t]

OBARVAJ ČRTO, KI PRAVILNO KAŽE POT, PO KATERI SE JE KOTALILO JAJCE.